

## **Geografía**

### **Nivel superior y nivel medio**

### **Prueba 2 – Cuadernillo de consulta**

Miércoles 7 de noviembre de 2018 (mañana)

---

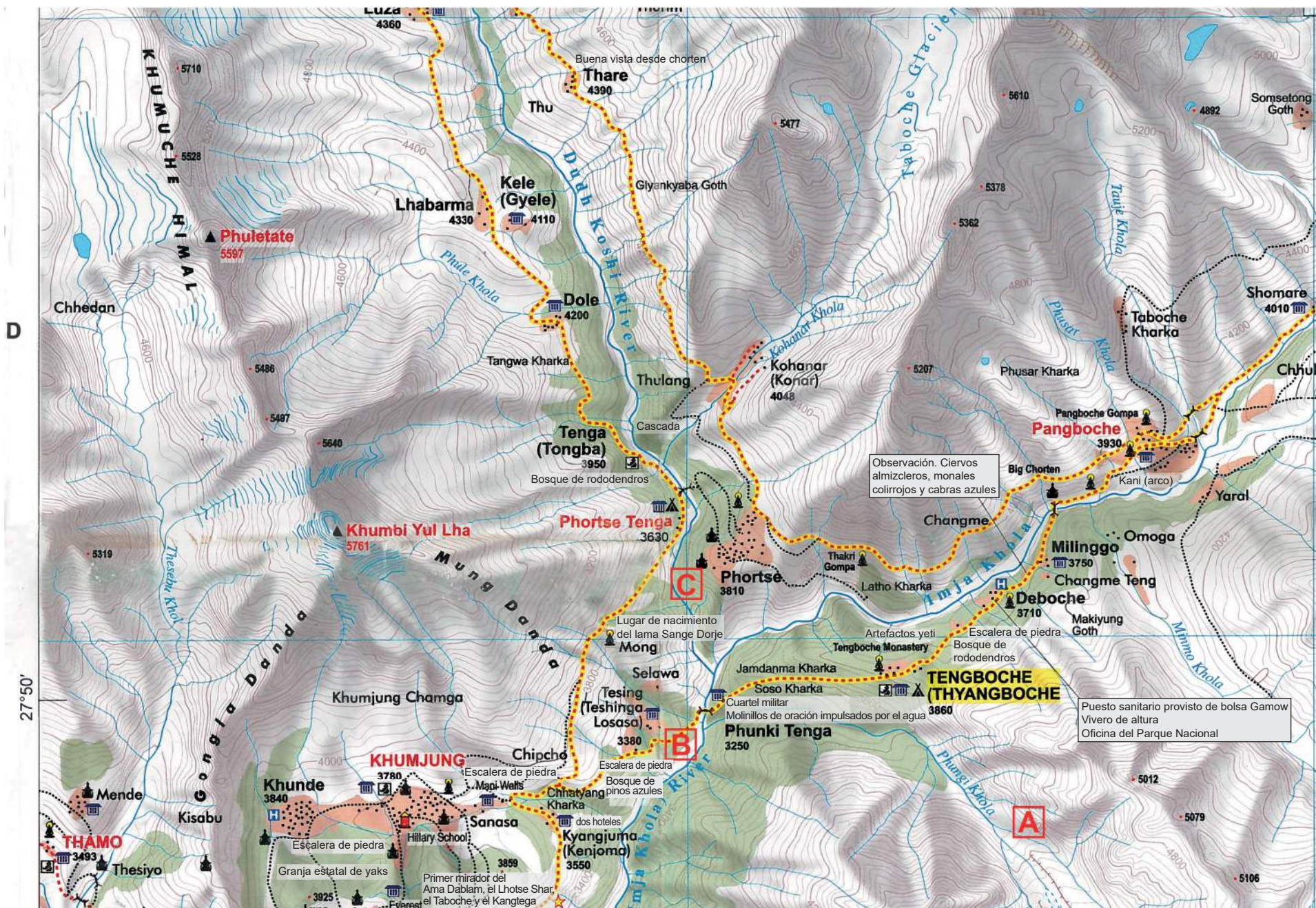
#### **Instrucciones para los alumnos**

- No abra este cuadernillo de consulta hasta que se lo autoricen.
- Utilice el cuadernillo para las preguntas apropiadas de la prueba 2.



## Opción A — Agua dulce: cuestiones y conflictos

2. El extracto del mapa muestra una parte del Parque Nacional de Sagarmatha, en Nepal. La escala es 1:50 000 y el intervalo entre las curvas de nivel es de 40 metros.

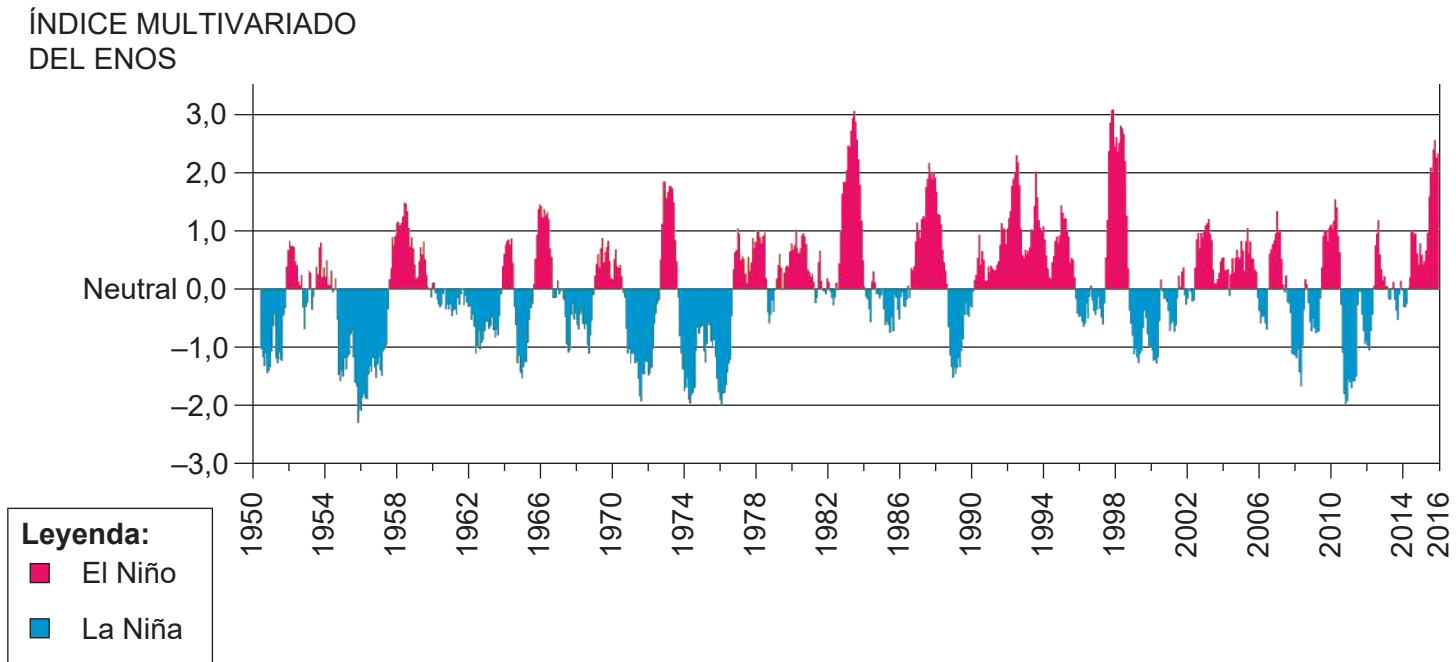






## Opción B — Océanos y sus franjas costeras

4. El gráfico muestra la fuerza relativa de los acontecimientos relacionados con El Niño y La Niña entre 1950 y 2016.




[Fuente: adaptado de *Topics Geo – Natural catastrophes 2015: Analyses, assessments, positions*. Edición 2016 © Derechos de autor 2000–2018 Münchener Rückversicherungs-Gesellschaft Aktiengesellschaft in München (“Munich Re”). Todos los derechos reservados.]



**Opción C — Ambientes extremos**

5. La fotografía muestra parte del Himalaya en la región del Everest nepalí en verano.



[Fuente: © Organización del Bachillerato Internacional, 2017]

Véase al dorso

**Opción D — Amenazas y desastres: evaluación de riesgo y respuestas humanas**

7. El mapa muestra las precipitaciones en los estados de la India durante la temporada de monzones de 2014, en comparación con el promedio a largo plazo de las temporadas de monzones.

Eliminado por motivos relacionados  
con los derechos de autor

**Opción F — La geografía de la alimentación y la salud**

- 11.** El mapa muestra el promedio de consumo de calorías diarias por país.

Eliminado por motivos relacionados  
con los derechos de autor